

---

## Prova Escrita de Matemática A

---

12.º Ano de Escolaridade

---

**Prova 635/2.ª Fase**

12 Páginas

---

Duração da Prova: 150 minutos. Tolerância: 30 minutos.

---

**2010**

**VERSÃO 1**

1. Em  $\mathbb{C}$ , conjunto dos números complexos, considere  $z_1 = \sqrt{2} \operatorname{cis}\left(\frac{\pi}{4}\right)$  e  $z_2 = 3$

Resolva os dois itens seguintes, recorrendo a métodos exclusivamente analíticos.

1.1. Determine o número complexo  $w = \frac{z_1^4 + 4i}{i}$

Apresente o resultado na forma trigonométrica.

The screenshot shows a calculator screen with the following content:

$$\frac{(\sqrt{2} \angle \frac{\pi}{4})^4 + 4i}{i} = 4\sqrt{2} \angle \frac{1}{4}\pi$$

At the bottom of the screen, there are buttons labeled 'JUMP DEL', 'MMAT', and 'MATH'.

4. Considere a função  $f$ , de domínio  $]0, +\infty[$ , definida por

$$f(x) = \begin{cases} \frac{e^x - 3x}{x} & \text{se } 0 < x \leq 2 \\ \frac{1}{5}x - \ln x & \text{se } x > 2 \end{cases}$$

Resolva os itens 4.1. e 4.2., recorrendo a métodos exclusivamente analíticos.

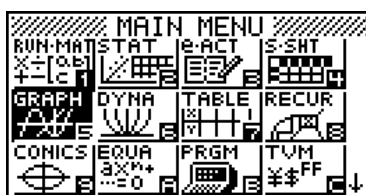
- 4.1. Estude a função  $f$  quanto à existência de assíntotas oblíquas.
- 4.2. Mostre que a função  $f$  tem um extremo relativo no intervalo  $]2, +\infty[$
- 4.3. Determine a área do triângulo  $[ABC]$ , recorrendo às capacidades gráficas da sua calculadora.
- Sabe-se que:
- $A$ ,  $B$  e  $C$  são pontos do gráfico da função  $f$
  - $A$  e  $B$  são os pontos cujas abcissas são as soluções, no intervalo  $]0, 2]$ , da equação  $f(x) = f(15)$
  - $C$  é o ponto cuja ordenada é o mínimo da função  $f$ , no intervalo  $]0, 2]$ , e cuja abcissa pertence ao intervalo  $]0, 2]$

Na sua resposta, deve:

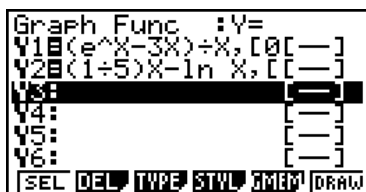
- reproduzir o gráfico da função, ou os gráficos das funções, que tiver necessidade de visualizar na calculadora, devidamente identificado(s), incluindo o referencial;
- indicar as coordenadas dos pontos  $A$ ,  $B$  e  $C$ , com arredondamento às centésimas;
- apresentar o resultado pedido, com arredondamento às décimas.

### Proposta de resolução:

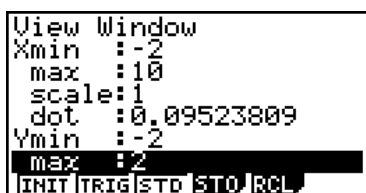
1. Começar por entrar no menu GRAPH, seleccionar, com as teclas direccionais, o respectivo ícone e pressionar a tecla EXE;



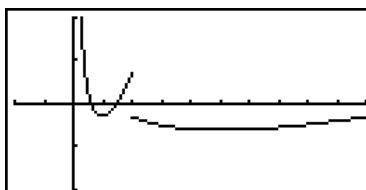
Seguidamente, introduza a expressão analítica da função em Y1 e Y2, dado que é uma função definida por ramos;



Defina uma janela de visualização adequada. Em SHIFT V-Window, seleccione, por exemplo:



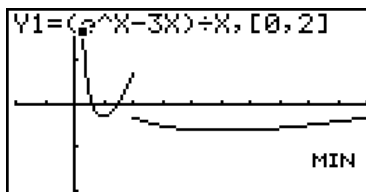
Após confirmar com EXE, seleccione F6 DRAW para visualizar uma representação gráfica;



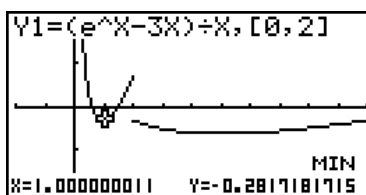
Por observação da representação gráfica, podemos concluir que existe uma assíntota vertical unilateral,  $x = 0$ .

**Existência de mínimos:**

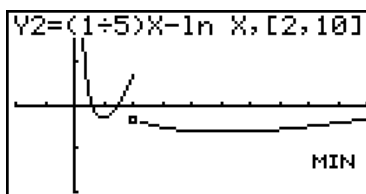
Selecione SHIFT F5 G-Slv F3 MIN, a máquina selecciona o primeiro ramo;



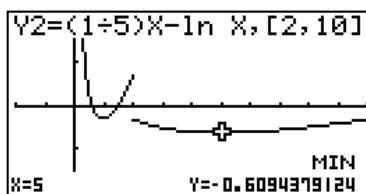
De seguida, clicar EXE visualiza a seguinte janela:



Repete o procedimento para Y2. Clica em EXIT EXE SHIFT F5 G-Slv F3 MIN, seleccione o segundo ramo com a tecla direccional  $\nabla$ ,



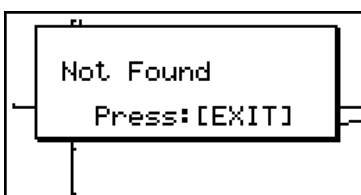
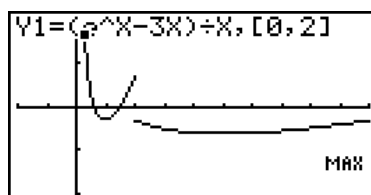
De seguida, clicar EXE visualiza a seguinte janela:



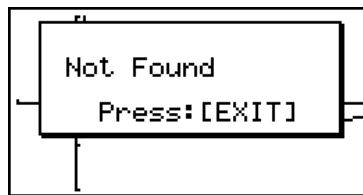
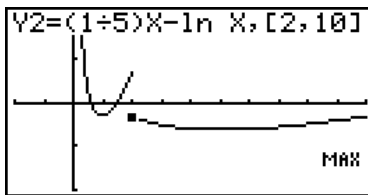
Conclui-se que a função tem dois mínimos,  $y=-0.61$  e  $y=-0.28$ .

**Existência de máximos:**

Selecione EXIT EXE SHIFT F5 G-Slv F2 MAX, a máquina selecciona o primeiro ramo, de seguida EXE



Repete o procedimento para Y2. Clica em EXIT EXE SHIFT F5 G-Slv F2 MAX, seleccione o segundo ramo com a tecla direccional  $\nabla$ , EXE

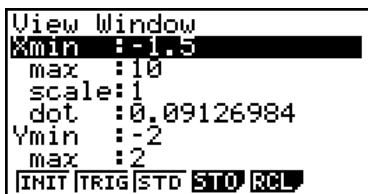


Conclui-se que a função não tem máximos.

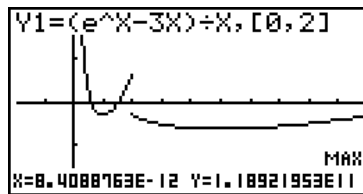
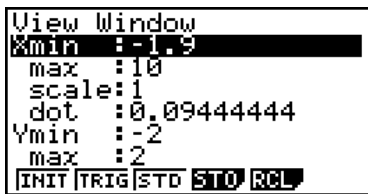
**Observação:**

Se na janela SHIFT V-Window alterar os valores de Xmin:

*Exemplo 1:*



*Exemplo 2:*



Para cada valor apresentado a calculadora encontra um máximo, no entanto sabemos que tal não é possível. Assim, devemos definir a janela de visualização de acordo com o domínio da função

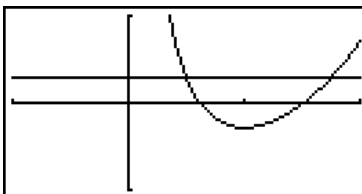
Comece por introduzir o valor da função  $f$  para  $x = 15$ ,  $f(15) = 3 - \ln 15$



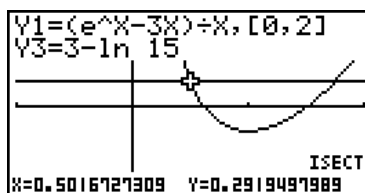
Selecione na janela os valores:



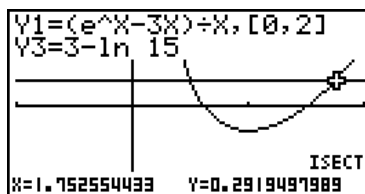
Trace a representação gráfica das funções Y1 e Y3. Obtém-se:



Para determinar as coordenadas do ponto A seleccione F5 G-Slv F5 ISCT,



Para determinar as coordenadas do ponto B, clique na tecla direccional  $\blacktriangleright$



As coordenadas do ponto C foram determinadas anteriormente na alínea 1.2.  
As coordenadas dos pontos A, B e C são:

$$A ( 0,50;0,29)$$

$$B ( 1,75;0,29)$$

$$C ( 1,00;-0,28)$$

Para determinar a área do triângulo [ABC] temos que determinar o comprimento da base,  $\overline{AB}$ , e a altura,  $h$ , do triângulo.

$$\overline{AB} = 1,75 - 0,50 = 1,25$$

$$h = 0,29 + 0,28 = 0,57$$

Assim, a área do triângulo [ABC] é dada por:

$$A = \frac{1,25 \times 0,57}{2} \approx 0,4$$

*Realizado pelas professoras da ES Pinhal Novo:*

Mara Alexandra Gomes de Sousa  
Natércia Gisela Azevedo Oliveira  
Maria Rita Pote Magriço  
Sandra Margarida Brites C. Lourenço